



Determine the value of each set of tally marks.

Answers

1)

1. _____

2)

2. _____

3)

3. _____

4)

4. _____

5)

5. _____

6)

6. _____

7)

7. _____

8)

8. _____

9)

9. _____

10)

10. _____

11)

11. _____

12)

12. _____

13)

13. _____

14)

14. _____

15)

15. _____

16)

16. _____

17)

17. _____

18)

18. _____



Determine the value of each set of tally marks.

Answers

- | | |
|-----|---------------|
| 1) | 1. <u>38</u> |
| 2) | 2. <u>24</u> |
| 3) | 3. <u>35</u> |
| 4) | 4. <u>25</u> |
| 5) | 5. <u>7</u> |
| 6) | 6. <u>50</u> |
| 7) | 7. <u>26</u> |
| 8) | 8. <u>39</u> |
| 9) | 9. <u>46</u> |
| 10) | 10. <u>33</u> |
| 11) | 11. <u>18</u> |
| 12) | 12. <u>43</u> |
| 13) | 13. <u>14</u> |
| 14) | 14. <u>49</u> |
| 15) | 15. <u>29</u> |
| 16) | 16. <u>19</u> |
| 17) | 17. <u>13</u> |
| 18) | 18. <u>11</u> |



Determine the value of each set of tally marks.

Answers

1)

1. _____

2)

2. _____

3)

3. _____

4)

4. _____

5)

5. _____

6)

6. _____

7)

7. _____

8)

8. _____

9)

9. _____

10)

10. _____

11)

11. _____

12)

12. _____

13)

13. _____

14)

14. _____

15)

15. _____

16)

16. _____

17)

17. _____

18)

18. _____



Determine the value of each set of tally marks.

Answers

- | | |
|-----|---------------|
| 1) | 1. <u>17</u> |
| 2) | 2. <u>28</u> |
| 3) | 3. <u>44</u> |
| 4) | 4. <u>40</u> |
| 5) | 5. <u>49</u> |
| 6) | 6. <u>16</u> |
| 7) | 7. <u>37</u> |
| 8) | 8. <u>33</u> |
| 9) | 9. <u>14</u> |
| 10) | 10. <u>35</u> |
| 11) | 11. <u>32</u> |
| 12) | 12. <u>7</u> |
| 13) | 13. <u>6</u> |
| 14) | 14. <u>47</u> |
| 15) | 15. <u>24</u> |
| 16) | 16. <u>48</u> |
| 17) | 17. <u>8</u> |
| 18) | 18. <u>29</u> |



Determine the value of each set of tally marks.

Answers

1)

1. _____

2)

2. _____

3)

3. _____

4)

4. _____

5)

5. _____

6)

6. _____

7)

7. _____

8)

8. _____

9)

9. _____

10)

10. _____

11)

11. _____

12)

12. _____

13)

13. _____

14)

14. _____

15)

15. _____

16)

16. _____

17)

17. _____

18)

18. _____



Determine the value of each set of tally marks.

Answers

- | | |
|-----|---------------|
| 1) | 1. <u>21</u> |
| 2) | 2. <u>18</u> |
| 3) | 3. <u>35</u> |
| 4) | 4. <u>10</u> |
| 5) | 5. <u>24</u> |
| 6) | 6. <u>39</u> |
| 7) | 7. <u>29</u> |
| 8) | 8. <u>46</u> |
| 9) | 9. <u>12</u> |
| 10) | 10. <u>32</u> |
| 11) | 11. <u>19</u> |
| 12) | 12. <u>16</u> |
| 13) | 13. <u>6</u> |
| 14) | 14. <u>9</u> |
| 15) | 15. <u>30</u> |
| 16) | 16. <u>7</u> |
| 17) | 17. <u>11</u> |
| 18) | 18. <u>13</u> |



Determine the value of each set of tally marks.

Answers

1)

1. _____

2)

2. _____

3)

3. _____

4)

4. _____

5)

5. _____

6)

6. _____

7)

7. _____

8)

8. _____

9)

9. _____

10)

10. _____

11)

11. _____

12)

12. _____

13)

13. _____

14)

14. _____

15)

15. _____

16)

16. _____

17)

17. _____

18)

18. _____



Determine the value of each set of tally marks.

Answers

- | | |
|-----|---------------|
| 1) | 1. <u>24</u> |
| 2) | 2. <u>27</u> |
| 3) | 3. <u>22</u> |
| 4) | 4. <u>40</u> |
| 5) | 5. <u>21</u> |
| 6) | 6. <u>13</u> |
| 7) | 7. <u>45</u> |
| 8) | 8. <u>6</u> |
| 9) | 9. <u>16</u> |
| 10) | 10. <u>12</u> |
| 11) | 11. <u>19</u> |
| 12) | 12. <u>49</u> |
| 13) | 13. <u>34</u> |
| 14) | 14. <u>9</u> |
| 15) | 15. <u>41</u> |
| 16) | 16. <u>29</u> |
| 17) | 17. <u>23</u> |
| 18) | 18. <u>28</u> |



Determine the value of each set of tally marks.

Answers

1)

1. _____

2)

2. _____

3)

3. _____

4)

4. _____

5)

5. _____

6)

6. _____

7)

7. _____

8)

8. _____

9)

9. _____

10)

10. _____

11)

11. _____

12)

12. _____

13)

13. _____

14)

14. _____

15)

15. _____

16)

16. _____

17)

17. _____

18)

18. _____



Determine the value of each set of tally marks.

Answers

- | | |
|-----|---------------|
| 1) | 1. <u>9</u> |
| 2) | 2. <u>37</u> |
| 3) | 3. <u>36</u> |
| 4) | 4. <u>26</u> |
| 5) | 5. <u>47</u> |
| 6) | 6. <u>20</u> |
| 7) | 7. <u>15</u> |
| 8) | 8. <u>25</u> |
| 9) | 9. <u>43</u> |
| 10) | 10. <u>21</u> |
| 11) | 11. <u>18</u> |
| 12) | 12. <u>44</u> |
| 13) | 13. <u>14</u> |
| 14) | 14. <u>38</u> |
| 15) | 15. <u>40</u> |
| 16) | 16. <u>33</u> |
| 17) | 17. <u>13</u> |
| 18) | 18. <u>50</u> |



Determine the value of each set of tally marks.

Answers

1)

1. _____

2)

2. _____

3)

3. _____

4)

4. _____

5)

5. _____

6)

6. _____

7)

7. _____

8)

8. _____

9)

9. _____

10)

10. _____

11)

11. _____

12)

12. _____

13)

13. _____

14)

14. _____

15)

15. _____

16)

16. _____

17)

17. _____

18)

18. _____



Determine the value of each set of tally marks.

Answers

1)

1. 13

2)

2. 18

3)

3. 44

4)

4. 20

5)

5. 23

6)

6. 47

7)

7. 26

8)

8. 9

9)

9. 48

10)

10. 10

11)

11. 16

12)

12. 38

13)

13. 30

14)

14. 15

15)

15. 39

16)

16. 45

17)

17. 49

18)

18. 22



Determine the value of each set of tally marks.

Answers

1)

1. _____

2)

2. _____

3)

3. _____

4)

4. _____

5)

5. _____

6)

6. _____

7)

7. _____

8)

8. _____

9)

9. _____

10)

10. _____

11)

11. _____

12)

12. _____

13)

13. _____

14)

14. _____

15)

15. _____

16)

16. _____

17)

17. _____



















18)

18. _____



Determine the value of each set of tally marks.

Answers

- | | |
|---|---------------|
| 1)  | 1. <u>10</u> |
| 2)  | 2. <u>33</u> |
| 3)  | 3. <u>45</u> |
| 4)  | 4. <u>20</u> |
| 5)  | 5. <u>42</u> |
| 6)  | 6. <u>26</u> |
| 7)  | 7. <u>39</u> |
| 8)  | 8. <u>15</u> |
| 9)  | 9. <u>11</u> |
| 10)  | 10. <u>34</u> |
| 11)  | 11. <u>13</u> |
| 12)  | 12. <u>8</u> |
| 13)  | 13. <u>41</u> |
| 14)  | 14. <u>44</u> |
| 15)  | 15. <u>25</u> |
| 16)  | 16. <u>49</u> |
| 17)  | 17. <u>12</u> |
| 18)  | 18. <u>21</u> |



Determine the value of each set of tally marks.

Answers

1)

1. _____

2)

2. _____

3)

3. _____

4)

4. _____

5)

5. _____

6)

6. _____

7)

7. _____

8)

8. _____

9)

9. _____

10)

10. _____

11)

11. _____

12)

12. _____

13)

13. _____

14)

14. _____

15)

15. _____

16)

16. _____

17)

17. _____

18)

18. _____



Determine the value of each set of tally marks.

Answers

- | | |
|-----|---------------|
| 1) | 1. <u>15</u> |
| 2) | 2. <u>48</u> |
| 3) | 3. <u>21</u> |
| 4) | 4. <u>17</u> |
| 5) | 5. <u>8</u> |
| 6) | 6. <u>11</u> |
| 7) | 7. <u>43</u> |
| 8) | 8. <u>33</u> |
| 9) | 9. <u>37</u> |
| 10) | 10. <u>16</u> |
| 11) | 11. <u>46</u> |
| 12) | 12. <u>9</u> |
| 13) | 13. <u>7</u> |
| 14) | 14. <u>41</u> |
| 15) | 15. <u>38</u> |
| 16) | 16. <u>47</u> |
| 17) | 17. <u>27</u> |
| 18) | 18. <u>26</u> |



Determine the value of each set of tally marks.

Answers

1) 

1. _____

2) 

2. _____

3) 

3. _____

4) 

4. _____

5) 

5. _____

6) 

6. _____

7) 

7. _____

8) 

8. _____

9) 

9. _____

10) 

10. _____

11) 

11. _____

12) 

12. _____

13) 

13. _____

14) 

14. _____

15) 

15. _____

16) 

16. _____

17) 

17. _____



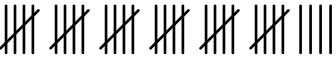


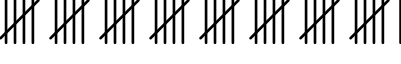



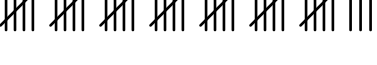

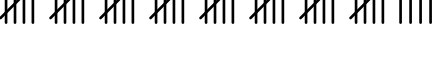
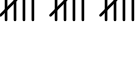
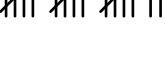
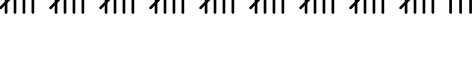



18) 

18. _____



Determine the value of each set of tally marks.

Answers

- | | |
|---|---------------|
| 1)  | 1. <u>19</u> |
| 2)  | 2. <u>31</u> |
| 3)  | 3. <u>34</u> |
| 4)  | 4. <u>36</u> |
| 5)  | 5. <u>16</u> |
| 6)  | 6. <u>41</u> |
| 7)  | 7. <u>20</u> |
| 8)  | 8. <u>13</u> |
| 9)  | 9. <u>7</u> |
| 10)  | 10. <u>38</u> |
| 11)  | 11. <u>50</u> |
| 12)  | 12. <u>44</u> |
| 13)  | 13. <u>15</u> |
| 14)  | 14. <u>17</u> |
| 15)  | 15. <u>48</u> |
| 16)  | 16. <u>28</u> |
| 17)  | 17. <u>27</u> |
| 18)  | 18. <u>42</u> |



Determine the value of each set of tally marks.

Answers

1)

1. _____

2)

2. _____

3)

3. _____

4)

4. _____

5)

5. _____

6)

6. _____

7)

7. _____

8)

8. _____

9)

9. _____

10)

10. _____

11)

11. _____

12)

12. _____

13)

13. _____

14)

14. _____

15)

15. _____

16)

16. _____

17)

17. _____

18)

18. _____



Determine the value of each set of tally marks.

Answers

1)

1. 49

2)

2. 7

3)

3. 31

4)

4. 44

5)

5. 23

6)

6. 19

7)

7. 17

8)

8. 35

9)

9. 32

10)

10. 50

11)

11. 40

12)

12. 12

13)

13. 9

14)

14. 13

15)

15. 30

16)

16. 15

17)

17. 47

18)

18. 6