



Determine if the angle shown is 'less', 'more' or 'equal' to 90°.

Answers

Ex)



1)



2)



Ex. **less**

1. _____

2. _____

3)



4)



5)



3. _____

4. _____

5. _____

6)



7)



8)



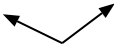
6. _____

7. _____

9)



10)



11)



8. _____

9. _____

10. _____

11. _____

12)



13)



14)



12. _____

13. _____

14. _____

15)



16)



17)



15. _____

16. _____

18)



19)



20)



17. _____

18. _____

19. _____

20. _____



Determine if the angle shown is 'less', 'more' or 'equal' to 90°.

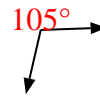
Ex)



1)



2)



Answers

Ex. less

3)



4)



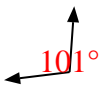
5)



1. equal

2. more

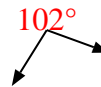
6)



7)



8)



3. less

4. equal

5. less

6. more

9)



10)



11)



7. equal

8. more

9. less

10. more

12)



13)



14)



11. equal

12. more

13. less

14. less

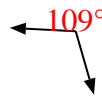
15)



16)



17)



15. equal

16. more

17. more

18)



19)



20)



18. equal

19. equal

20. equal